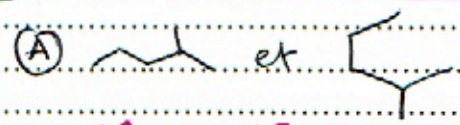


Interrogation de Stéréochimie

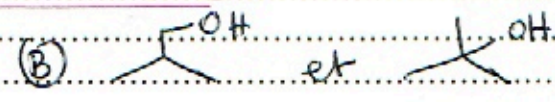
① La structure de l'acide aminé "isoleucine" est donnée ci-dessous.

Combien de C* existe-t-il dans cette molécule: HOOC-CH(NH2)-CH(CH3)-CH2-CH3 2 C*

② Quelle relation existe-t-il entre ces molécules.

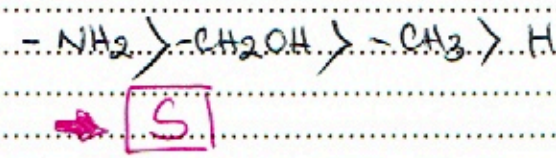
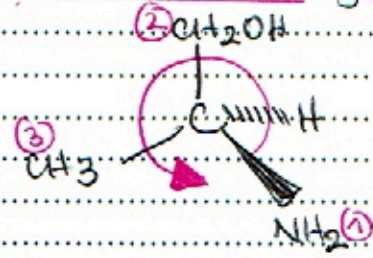


Même molécule.



Isomérie de position.

③ Donner la configuration absolue (R,S) du C* de la molécule suivante.

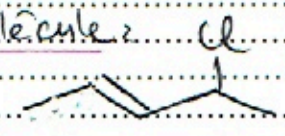


7 N, 6 C, 8 O

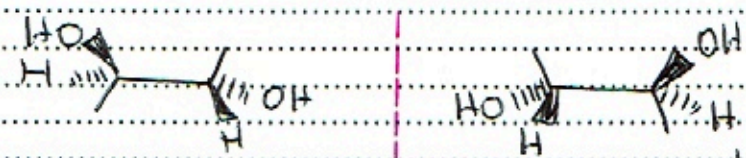
Interrogation de Stéréochimie

① Quelle type d'isomérisse possède cette molécule?

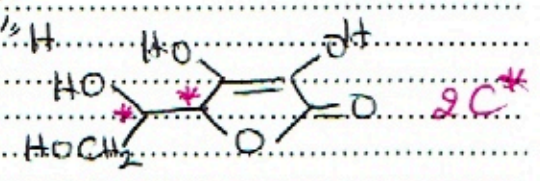
Isomère E



② Dessiner l'énantiomère de cette molécule.



③ Combien de C* possède l'acide ascorbique.



④ Donner la configuration (R,S) de cette molécule.

