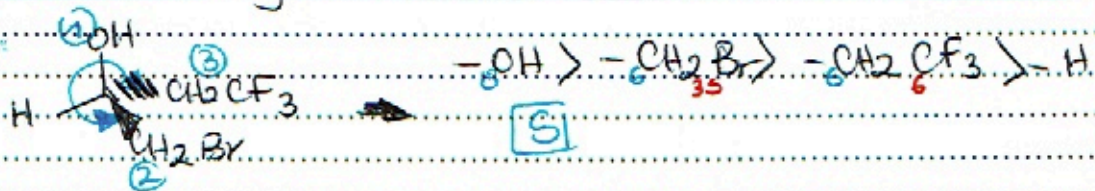



Interrogation de Stéréochimie

① Donner la configuration absolue (R,S) de la molécule suivante.



② Quelle relation d'isomérisme existe-t-il entre ces 2 molécules :

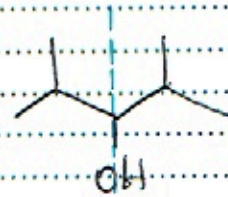


③ Cette molécule est chirale ou Achirale ?

Achirale



⇒ Justifier : - Elle n'a pas de C*

- Elle contient un plan de symétrie



Interrogation de Stéréochimie

① Quelle relation d'isomérisme existe-t-il entre ces 2 molécules :



② Combien de C* possède-t-elle cette molécule : 1C*

Cette molécule est chirale ou Achirale ⇒ Chirale



③ Donner la configuration absolue (R,S) de cette molécule.

